

Vorlesung

Vektorraum \mathbb{Z}_7^3

$$\mathbb{Z}_7^3 := \left\{ \begin{pmatrix} x \\ y \\ z \end{pmatrix} \mid x, y, z \in \mathbb{Z}_7 \right\}$$

$$\begin{pmatrix} 2 \\ 5 \\ 3 \end{pmatrix} \oplus \begin{pmatrix} 6 \\ 4 \\ 2 \end{pmatrix} = \begin{pmatrix} 1 \\ 2 \\ 5 \end{pmatrix}$$

$$4 \odot \begin{pmatrix} 3 \\ 5 \\ 4 \end{pmatrix} = 4 \begin{pmatrix} 3 \\ 5 \\ 4 \end{pmatrix} = \begin{pmatrix} 5 \\ 6 \\ 2 \end{pmatrix}$$

Basis in \mathbb{Z}_7^3 :

$$\begin{pmatrix} 1 \\ 0 \\ 0 \end{pmatrix}, \begin{pmatrix} 0 \\ 1 \\ 0 \end{pmatrix}, \begin{pmatrix} 0 \\ 0 \\ 1 \end{pmatrix}$$

$$\dim \mathbb{Z}_7^3 = 3$$

$$|\mathbb{Z}_7^3| = |\mathbb{Z}_7|^3 = 7^3$$

„Kardinalität“

Untervektorraum von \mathbb{Z}_7^3 :

$$\text{z.B. } \mathcal{U} := \left\{ \begin{pmatrix} x \\ y \\ 0 \end{pmatrix} \mid x, y \in \mathbb{Z}_7 \right\}$$

$$\dim \mathcal{U} = \underline{\underline{2}}$$

$$|\mathcal{U}| = 7^2 = \underline{\underline{49}}$$

Beispiel zur Analyse einer linearen Abbildung

$L: \mathbb{Z}_7^4 \rightarrow \mathbb{Z}_7^4$ gegeben durch

$$A := \begin{pmatrix} 5 & 4 & 5 & 2 \\ 4 & 3 & 2 & 5 \\ 5 & 3 & 5 & 1 \\ 6 & 3 & 3 & 6 \end{pmatrix}$$

als $L: \vec{x} \mapsto A \vec{x}$.

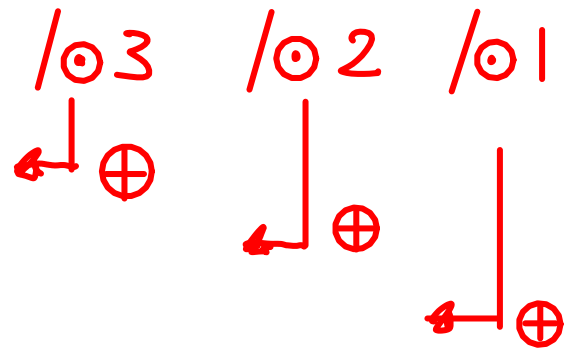
Bestimme zunächst alle Elemente aus \mathbb{Z}_7^4 , die durch L auf den Nullvektor abgebildet werden. Man nennt die Gesamtheit dieser Elemente den **Kern von L** , kurz **Kern (L)**.

Bestimme $\vec{x} \in \mathbb{Z}_7^4$ mit $A \vec{x} = \vec{0}$:

5	4	5	2	0
4	3	2	5	0
5	3	5	1	0
6	3	3	6	0

/ 3

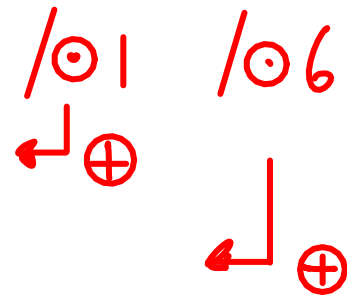
1	5	1	6	0
4	3	2	5	0
5	3	5	1	0
6	3	3	6	0



1	5	1	6	0
0	4	5	2	0
0	6	0	6	0
0	1	4	5	0

/ 2

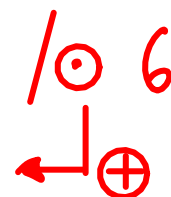
1	5	1	6	0
0	1	3	4	0
0	6	0	6	0
0	1	4	5	0



1	5	1	6	0
0	1	3	4	0
0	0	3	3	0
0	0	1	1	0

/ 5

1	5	1	6	0
0	1	3	4	0
0	0	1	1	0
0	0	1	1	0



1	5	1	6	0	(1)
0	1	3	4	0	(2)
0	0	1	1	0	(3)
0	0	0	0	0	(4)

Auflösen von unten:

$$(4) \quad 0 \odot x_4 = 0, \text{ also } \underline{x_4 := 1 \in \mathbb{Z}_7 \text{ bel.}}$$

$$(3) \quad x_3 \oplus 1 = 0 \Rightarrow \underline{x_3 = -1 = 6 \odot 1}$$

$$(2) \quad x_2 \oplus 3 \odot 6 \odot 1 \oplus 4 \odot 1 = 0 \Rightarrow$$

$$\underline{x_2 = -1 = 6 \odot 1}$$

$$(1) \quad x_1 \oplus 5 \odot 6 \odot 1 \oplus 6 \odot 1 \oplus 6 \odot 1 = 0 \Rightarrow$$

$$\underline{x_1 = 0}$$

also:

$$\underline{\mathbb{L} = \text{Kern}(L)} = \left\{ \begin{pmatrix} 0 \\ 6 \odot 1 \\ 6 \odot 1 \\ 1 \end{pmatrix} \mid 1 \in \mathbb{Z}_7 \right\}$$

$$= \left\{ 1 \odot \begin{pmatrix} 0 \\ 6 \\ 6 \\ 1 \end{pmatrix} \mid 1 \in \mathbb{Z}_7 \right\}$$

Untervektorraum
des Definitionsber.
von L

$$\underline{\underline{\dim \text{Kern}(L) = 1}} \quad (\text{Anzahl frei wählbarer Param.})$$

$$\underline{\underline{B_{\text{Kern}(L)} = \left\{ \begin{pmatrix} 0 \\ 6 \\ 6 \\ 1 \end{pmatrix} \right\}}} \quad (\text{Basis von Kern}(L))$$

Bestimmung einer Basis von $\text{Bild}(L)$, also des Spans der Spaltenvektoren:

$$\begin{array}{cccc} \textcircled{5} & 4 & 5 & 6 \\ 4 & 3 & 3 & 3 \\ 5 & 2 & 5 & 3 \\ 2 & 5 & 1 & 6 \end{array} \quad \odot 3$$

„Schreibe Spaltenvektoren
zeilenweise in Matrix“

$$\begin{array}{cccc} \textcircled{1} & 5 & 1 & 4 \\ \boxed{4} & 3 & 3 & 3 \\ 5 & 2 & 5 & 3 \\ 2 & 5 & 1 & 6 \end{array} \quad \begin{array}{l} / \odot 3 \\ \leftarrow \oplus \end{array} \quad \begin{array}{l} / \odot 2 \\ \leftarrow \oplus \end{array} \quad \begin{array}{l} / \odot 5 \\ \leftarrow \oplus \end{array}$$


$$\begin{array}{cccc} 1 & 5 & 1 & 4 \\ 0 & \textcircled{4} & 6 & 1 \\ 0 & 5 & 0 & 4 \\ 0 & 2 & 6 & 5 \end{array} \quad / \odot 2$$

$$\begin{array}{cccc} 1 & 5 & 1 & 4 \\ 0 & \textcircled{1} & 5 & 2 \\ 0 & \boxed{5} & 0 & 4 \\ 0 & \boxed{2} & 6 & 5 \end{array} \quad \begin{array}{l} / \odot 2 \\ \leftarrow \oplus \end{array} \quad \begin{array}{l} / \odot 5 \\ \leftarrow \oplus \end{array}$$

$$\begin{array}{cccc}
 1 & 5 & 1 & 4 \\
 0 & 1 & 5 & 2 \\
 0 & 0 & \textcircled{3} & 1 \\
 0 & 0 & \boxed{3} & 1
 \end{array}$$

$\diagup \odot -1$ bzw. $\odot 6$
 $\swarrow \oplus$

$$\begin{array}{cccc}
 1 & 5 & 1 & 4 \\
 0 & 1 & 5 & 2 \\
 0 & 0 & 3 & 1 \\
 0 & 0 & 0 & 0
 \end{array}$$



Also: $\dim \text{Bild}(L) = 3$ (Nicht-0- Zeilen)

Konvention: $\text{Rang}(L) := \dim \text{Bild}(L)$.

$$\textcircled{B}_{\text{Bild}(L)} = \left\{ \begin{pmatrix} 1 \\ 5 \\ 1 \\ 4 \end{pmatrix}, \begin{pmatrix} 0 \\ 1 \\ 5 \\ 2 \end{pmatrix}, \begin{pmatrix} 0 \\ 0 \\ 3 \\ 1 \end{pmatrix} \right\}$$

Basis von $\text{Bild}(L)$

$$\text{Bild}(L) = \text{Spann}_{\mathbb{Z}_7} \left\{ \begin{pmatrix} 1 \\ 5 \\ 1 \\ 4 \end{pmatrix}, \begin{pmatrix} 0 \\ 1 \\ 5 \\ 2 \end{pmatrix}, \begin{pmatrix} 0 \\ 0 \\ 3 \\ 1 \end{pmatrix} \right\}$$

Untervektorraum des Wertebereichs von L

Beobachtung:

$$\underbrace{\dim \operatorname{Bild}(L)}_3 + \underbrace{\dim \operatorname{Kern}(L)}_1 = \underbrace{\dim \mathbb{Z}_7^4}_4$$

„Dimensionsatz“

Übung

Aufgabe (ein wenig Wiederholung)

Gegeben sei der Körper \mathbb{Z}_7 . Berechnen Sie

$$(a) \quad \frac{6 \oplus 4 \odot 3}{5 \ominus 6^{-1}} \quad ,$$

$$(b) \quad \begin{pmatrix} 4 & 2 \\ 1 & 3 \end{pmatrix}^{-1} \quad .$$

zu (a)

$$\frac{6 \oplus 4 \odot 3}{5 \ominus 6^{-1}} =$$

$$= \frac{6 \oplus 5}{5 \ominus 6} = \frac{4}{5 \oplus -6} = \frac{4}{5 \oplus 1}$$

$$= 4 \odot 6^{-1} = 4 \odot 6 = \underline{\underline{3}}$$

zu (b)

Vollständiger Gauß-Algorithmus:

$$\begin{array}{cc|cc} A & \begin{pmatrix} \textcircled{4} & 2 \\ 1 & 3 \end{pmatrix} & 1 & 0 & / \ominus 2 \\ & \hline & \begin{pmatrix} \textcircled{1} & 4 \\ \boxed{1} & 3 \end{pmatrix} & 2 & 0 & / \ominus 6 \\ & & 0 & 1 & \downarrow \oplus \\ & \hline & \begin{pmatrix} 1 & 4 \\ 0 & \textcircled{6} \end{pmatrix} & 2 & 0 & \ominus 6 \\ & & \hline & \begin{pmatrix} 1 & \boxed{4} \\ 0 & \textcircled{1} \end{pmatrix} & 2 & 0 & \leftarrow \oplus \\ & & 2 & 6 & \ominus 3 \\ & & \hline & \begin{pmatrix} 1 & 0 \\ 0 & 1 \end{pmatrix} & \begin{pmatrix} 1 & 4 \\ 2 & 6 \end{pmatrix} & = A^{-1} \end{array}$$

Probe: $A \cdot A^{-1} = \begin{pmatrix} 4 & 2 \\ 1 & 3 \end{pmatrix} \begin{pmatrix} 1 & 4 \\ 2 & 6 \end{pmatrix}$

$$= \begin{pmatrix} 4 \oplus 4 & 2 \oplus 5 \\ 1 \oplus 6 & 4 \oplus 4 \end{pmatrix}$$
$$= \begin{pmatrix} 1 & 0 \\ 0 & 1 \end{pmatrix} \quad \checkmark \quad \text{o.k.}$$

Aufgabe

Gegeben sei die lineare Abbildung $L: \mathbb{Z}_{11}^3 \rightarrow \mathbb{Z}_{11}^3$ durch Angabe ihrer Wirkung auf die Einheitsbasis in \mathbb{Z}_{11}^3 , konkret

$$L\begin{pmatrix} 1 \\ 0 \\ 0 \end{pmatrix} := \begin{pmatrix} 10 \\ 1 \\ 3 \end{pmatrix}, \quad L\begin{pmatrix} 0 \\ 1 \\ 0 \end{pmatrix} := \begin{pmatrix} 0 \\ 6 \\ 3 \end{pmatrix}, \quad L\begin{pmatrix} 0 \\ 0 \\ 1 \end{pmatrix} := \begin{pmatrix} 2 \\ 4 \\ 8 \end{pmatrix}.$$

Bestimmen Sie $\text{Kern}(L)$ und $\text{Bild}(L)$ sowie deren Basen und Dimensionen.

Um $\text{Kern}(L)$ zu berechnen, ist das lineare Gleichungssystem

$$\begin{aligned} L(\vec{x}) &= L\begin{pmatrix} x_1 \\ x_2 \\ x_3 \end{pmatrix} = \overset{\text{linear!}}{L\left(x_1 \begin{pmatrix} 1 \\ 0 \\ 0 \end{pmatrix} \oplus x_2 \begin{pmatrix} 0 \\ 1 \\ 0 \end{pmatrix} \oplus x_3 \begin{pmatrix} 0 \\ 0 \\ 1 \end{pmatrix}\right)} \\ &= x_1 \begin{pmatrix} 10 \\ 1 \\ 3 \end{pmatrix} \oplus x_2 \begin{pmatrix} 0 \\ 6 \\ 3 \end{pmatrix} \oplus x_3 \begin{pmatrix} 2 \\ 4 \\ 8 \end{pmatrix} = \begin{pmatrix} 0 \\ 0 \\ 0 \end{pmatrix} \end{aligned}$$

Zu lösen:

$$\begin{array}{cccc} \textcircled{10} & 0 & 2 & 0 \\ 1 & 6 & 4 & 0 \\ 3 & 3 & 8 & 0 \end{array}$$

$\circ 10$

$$\begin{pmatrix} 10 & 0 & 2 \\ 1 & 6 & 4 \\ 3 & 3 & 8 \end{pmatrix} \begin{pmatrix} x_1 \\ x_2 \\ x_3 \end{pmatrix}$$

$\begin{pmatrix} 1 \\ 1 \\ 3 \end{pmatrix}$	$\begin{pmatrix} 0 \\ 6 \\ 3 \end{pmatrix}$	$\begin{pmatrix} 9 \\ 4 \\ 8 \end{pmatrix}$	$\begin{pmatrix} 0 \\ 0 \\ 0 \end{pmatrix}$	$\begin{matrix} / \odot 10 \\ \swarrow \oplus \end{matrix}$	$\begin{matrix} / \odot 8 \\ \swarrow \oplus \end{matrix}$
<hr/>					
$\begin{pmatrix} 1 \\ 0 \\ 0 \end{pmatrix}$	$\begin{pmatrix} 0 \\ 6 \\ 3 \end{pmatrix}$	$\begin{pmatrix} 9 \\ 6 \\ 3 \end{pmatrix}$	$\begin{pmatrix} 0 \\ 0 \\ 0 \end{pmatrix}$	$/ \odot 2$	
<hr/>					
$\begin{pmatrix} 1 \\ 0 \\ 0 \end{pmatrix}$	$\begin{pmatrix} 0 \\ 1 \\ 3 \end{pmatrix}$	$\begin{pmatrix} 9 \\ 1 \\ 3 \end{pmatrix}$	$\begin{pmatrix} 0 \\ 0 \\ 0 \end{pmatrix}$	$/ \odot 8$	
<hr/>					
$\begin{pmatrix} 1 \\ 0 \\ 0 \end{pmatrix}$	$\begin{pmatrix} 0 \\ 1 \\ 0 \end{pmatrix}$	$\begin{pmatrix} 9 \\ 1 \\ 0 \end{pmatrix}$	$\begin{pmatrix} 0 \\ 0 \\ 0 \end{pmatrix}$		$\begin{matrix} (1) \\ (2) \\ (3) \end{matrix}$

Auflösen von unten:

$$(3): 0 \odot x_3 = 0, \text{ also } \underline{\underline{x_3 = 1 \in \mathbb{Z}_{11} \text{ beliebig.}}}$$

$$(2): x_2 \oplus 1 = 0, \text{ also } \underline{\underline{x_2 = -1 = 10 \odot 1}}$$

$$(1): x_1 \oplus 9 \odot 1 = 0, \text{ also } \underline{\underline{x_1 = -9 \odot 1 = 2 \odot 1}}$$

$$\begin{aligned} \underline{\underline{\text{Kern}(L)}} &= \left\{ \lambda \begin{pmatrix} -9 \\ -1 \\ 1 \end{pmatrix} \mid \lambda \in \mathbb{Z}_{11} \right\} \\ &= \left\{ \lambda \begin{pmatrix} 2 \\ 10 \\ 1 \end{pmatrix} \mid \lambda \in \mathbb{Z}_{11} \right\}. \end{aligned}$$

$$\underline{\underline{B_{\text{Kern}(L)} = \left\{ \begin{pmatrix} 2 \\ 10 \\ 1 \end{pmatrix} \right\}}}, \quad \underline{\underline{\dim \text{Kern}(L) = 1}}.$$

$$\underline{\underline{\text{Rang}(L) = \dim \mathbb{Z}_{11}^3 - \dim \text{Kern}(L) = 3 - 1 = 2}}.$$

Zur Bestimmung von $\text{Bild}(L)$ wird der Spann der Bilder der Einheitsvektoren untersucht:

$\odot 10$	1	3	$\odot 10$
0	6	3	
2	4	8	

$\odot 1$	10	8	$\odot 9$
$\boxed{0}$	6	3	\downarrow
$\boxed{2}$	4	8	$\leftarrow \oplus$

1	10	8	$/ \odot 10$
0	$\odot 6$	3	\downarrow
0	$\boxed{6}$	3	$\leftarrow \oplus$

1	10	8
0	6	3
0	0	0

Also: $\underline{\underline{\text{Bild}(L) = \text{Spann}_{\mathbb{Z}_{11}} \left\{ \begin{pmatrix} 1 \\ 10 \\ 8 \end{pmatrix}, \begin{pmatrix} 0 \\ 6 \\ 3 \end{pmatrix} \right\}}}$

$$\underline{\underline{B_{\text{Bild}(L)} = \left\{ \begin{pmatrix} 1 \\ 10 \\ 8 \end{pmatrix}, \begin{pmatrix} 0 \\ 6 \\ 3 \end{pmatrix} \right\}}}$$

(Hätte man hier auch ohne Rechnung erledigen können!)

Aufgabe

Gegeben sei die lineare Abbildung $L: \mathbb{Z}_{13}^2 \rightarrow \mathbb{Z}_{13}^3$
mittels einer Matrix $A \in \mathbb{Z}_{13}^{3 \times 2}$ gemäß

$$L(\vec{x}) := A \vec{x} := \begin{pmatrix} 1 & 2 \\ 4 & 12 \\ 1 & 1 \end{pmatrix} \begin{pmatrix} x_1 \\ x_2 \end{pmatrix}.$$

Bestimmen Sie $\text{Kern}(L)$ und $\text{Bild}(L)$ sowie
deren Basen und Dimensionen.

Um $\text{Kern}(L)$ zu berechnen ist das lineare Gleichungs-
system $L(\vec{x}) = A \vec{x} = \vec{0}$ zu lösen:

①	2	0	⊙ 9	/⊙ 12
4	12	0	↙ ⊕	
1	1	0		↙ ⊕
<hr/>				
1	2	0		
0	④	0	/⊙ 10	
0	12	0		
<hr/>				
1	2	0		
0	①	0	/⊙ 1	
0	12	0	↙ ⊕	
<hr/>				

$$\begin{array}{ccc}
 1 & 2 & 0 \\
 0 & 1 & 0 \\
 0 & 0 & 0
 \end{array}$$

Auflösen des Endsystems von unten liefert offenbar:

$$\underline{\underline{\text{Kern}(L) = \left\{ \begin{pmatrix} 0 \\ 0 \end{pmatrix} \right\}}}, \quad \underline{\underline{\dim \text{Kern}(L) = 0}},$$

$$\underline{\underline{B_{\text{Kern}(L)} = \emptyset}}.$$

$$\text{also: } \underline{\underline{\text{Rang}(L) = \dim \mathbb{Z}_{13}^2 - \dim \text{Kern}(L) = 2 - 0 = 2}}.$$

$$\underline{\underline{\text{Bild}(L) = \text{Spann}_{\mathbb{Z}_{13}} \left(\left\{ \begin{pmatrix} 1 \\ 4 \\ 1 \end{pmatrix}, \begin{pmatrix} 2 \\ 12 \\ 1 \end{pmatrix} \right\} \right)}}.$$

$$\underline{\underline{B_{\text{Bild}(L)} = \left\{ \begin{pmatrix} 1 \\ 4 \\ 1 \end{pmatrix}, \begin{pmatrix} 2 \\ 12 \\ 1 \end{pmatrix} \right\}}}.$$

Aufgabe

Gegeben sei die lineare Abbildung $L: \mathbb{Z}_7^3 \rightarrow \mathbb{Z}_7^2$
mittels einer Matrix $A \in \mathbb{Z}_7^{2 \times 3}$ gemäß

$$L(\vec{x}) := A \vec{x} := \begin{pmatrix} 1 & 2 & 3 \\ 4 & 6 & 3 \end{pmatrix} \begin{pmatrix} x_1 \\ x_2 \\ x_3 \end{pmatrix}.$$

Bestimmen Sie Kern(L) und Bild(L) sowie
deren Basen und Dimensionen.

Um Kern(L) zu berechnen ist das lineare Gleichungs-
system $L(\vec{x}) = A \vec{x} = \vec{0}$ zu lösen:

①	2	3	0	$/ \odot 3$
4	6	3	0	$\leftarrow \oplus$
<hr/>				
1	2	3	0	(1)
0	5	5	0	(2)
<hr/>				

Auflösen von unten:

$$(2) : \quad 5 \odot x_2 \oplus 5 \odot x_3 = 0, \text{ also}$$

$$\underline{\underline{x_3 = 1}} \in \mathbb{Z}_7 \text{ beliebig und } \underline{\underline{x_2 = -1}}.$$

$$(1): x_1 \oplus 2 \odot -1 \oplus 3 \odot 1 = 0, \text{ also } \underline{\underline{x_1 = -1.}}$$

Somit:

$$\begin{aligned} \underline{\underline{\text{Kern}(L)}} &= \left\{ \lambda \begin{pmatrix} -1 \\ -1 \\ 1 \end{pmatrix} \mid \lambda \in \mathbb{Z}_7 \right\} \\ &= \underline{\underline{\left\{ \lambda \begin{pmatrix} 6 \\ 6 \\ 1 \end{pmatrix} \mid \lambda \in \mathbb{Z}_7 \right\}}}. \end{aligned}$$

$$\underline{\underline{B_{\text{Kern}(L)}}} = \left\{ \begin{pmatrix} 6 \\ 6 \\ 1 \end{pmatrix} \right\}, \quad \underline{\underline{\dim \text{Kern}(L) = 1.}}$$

$$\underline{\underline{\text{Rang}(L)}} = \dim \mathbb{Z}_7^3 - \dim \text{Kern}(L) = 3 - 1 = \underline{\underline{2}}.$$

Zur Bestimmung einer Basis von $\text{Bild}(L)$ muss man nun nur zwei linear unabhängige Spaltenvektoren von A auswählen, also z.B.

$$\underline{\underline{B_{\text{Bild}(L)}}} = \left\{ \begin{pmatrix} 1 \\ 4 \end{pmatrix}, \begin{pmatrix} 2 \\ 6 \end{pmatrix} \right\}.$$

$$\underline{\underline{\text{Bild}(L)}} = \text{Spann}_{\mathbb{Z}_7} \left(\left\{ \begin{pmatrix} 1 \\ 4 \end{pmatrix}, \begin{pmatrix} 2 \\ 6 \end{pmatrix} \right\} \right).$$

Aufgabe

Gegeben sei die lineare Abbildung $L: \mathbb{Q}^3 \rightarrow \mathbb{Q}^3$
mittels einer Matrix $A \in \mathbb{Q}^{3 \times 3}$ gemäß

$$L(\vec{x}) := A \vec{x} := \begin{pmatrix} -7 & 3 & -1 \\ 49 & -22 & 6 \\ -21 & 10 & -2 \end{pmatrix} \begin{pmatrix} x_1 \\ x_2 \\ x_3 \end{pmatrix}.$$

Bestimmen Sie $\text{Kern}(L)$ und $\text{Bild}(L)$ sowie
deren Basen und Dimensionen.

Um $\text{Kern}(L)$ zu berechnen ist das lineare Gleichungs-
system $L(\vec{x}) = A \vec{x} = \vec{0}$ zu lösen:

-7	3	-1	0	
49	-22	6	0	$\swarrow \cdot 7$
-21	10	-2	0	$\swarrow \cdot (-3)$

-7	3	-1	0	
0	-1	-1	0	$\swarrow \cdot 1$
0	1	1	0	$\swarrow +$

-7	3	-1	0	(1)
0	-1	-1	0	(2)
0	0	0	0	(3)

Auflösen von unten:

$$(3): \quad 0 \cdot x_3 = 0, \text{ also } \underline{\underline{x_3 = \lambda \in \mathbb{Q} \text{ beliebig.}}}$$

$$(2): \quad -x_2 - \lambda = 0, \text{ also } \underline{\underline{x_2 = -\lambda.}}$$

$$(1): \quad -7x_1 - 3\lambda - \lambda = 0, \text{ also } \underline{\underline{x_1 = -\frac{4}{7}\lambda.}}$$

$$\underline{\underline{\text{Kern}(L) = \left\{ \lambda \begin{pmatrix} -\frac{4}{7} \\ -1 \\ 1 \end{pmatrix} \mid \lambda \in \mathbb{Q} \right\}.}}$$

$$\underline{\underline{\mathcal{B}_{\text{Kern}(L)} = \left\{ \begin{pmatrix} 4 \\ 7 \\ -7 \end{pmatrix} \right\}, \quad \underline{\underline{\dim \text{Kern}(L) = 1.}}}}$$

$$\underline{\underline{\text{Rang}(L) = \dim \mathbb{Q}^3 - \dim \text{Kern}(L) = 3 - 1 = \underline{\underline{2.}}}}$$

$$\underline{\underline{\text{Bild}(L) = \text{Spann}_{\mathbb{Q}} \left(\left\{ \begin{pmatrix} -7 \\ 49 \\ -21 \end{pmatrix}, \begin{pmatrix} -1 \\ 6 \\ -2 \end{pmatrix} \right\} \right).}}$$

$$\underline{\underline{\mathcal{B}_{\text{Bild}(L)} = \left\{ \begin{pmatrix} -7 \\ 49 \\ -21 \end{pmatrix}, \begin{pmatrix} -1 \\ 6 \\ -2 \end{pmatrix} \right\}.}}$$