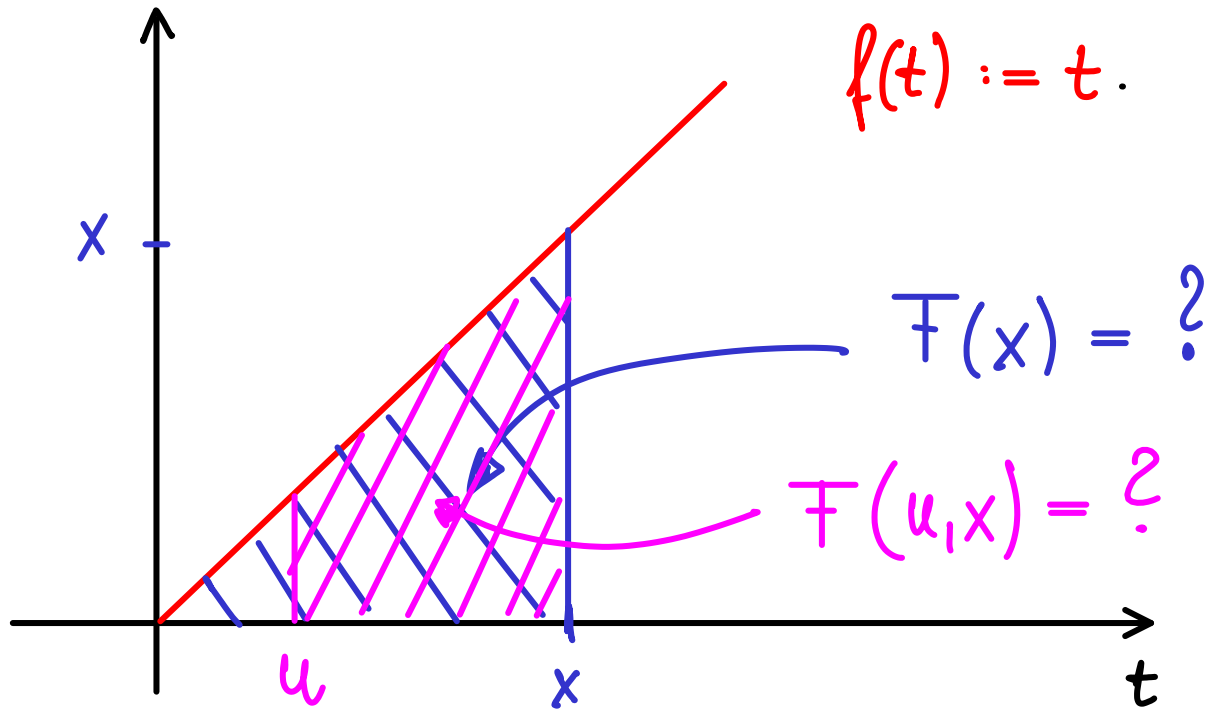


Vorlesung

Motivation zum Integrieren \rightsquigarrow Suche von
Flächeninhalten unter Graphen von Funktionen:



$$F(x) = \frac{1}{2} x \cdot x = \frac{1}{2} x^2 \quad (\text{Dreiecksfläche})$$

Beobachtung: $F'(x) = x = f(x)$

$$F(u, x) = \frac{1}{2} x \cdot x - \frac{1}{2} u \cdot u = \frac{1}{2} x^2 - \frac{1}{2} u^2$$

$$=: \left[\frac{1}{2} t^2 \right]_u^x = \left[F(t) \right]_u^x$$

Beispiel zu Stammfunktionen:

$$f(x) = x$$

$$F(x) = \frac{1}{2} x^2, \text{ denn } F'(x) = f(x)$$

Insbesondere:

$$\int_0^4 x \, dx = \left[\frac{1}{2} x^2 \right]_0^4 = \frac{1}{2} \cdot 16 - \frac{1}{2} \cdot 0 = \underline{\underline{8}}$$

Alternativ:

$$F(x) = \frac{1}{2} x^2 + 5, \text{ denn } F'(x) = x$$

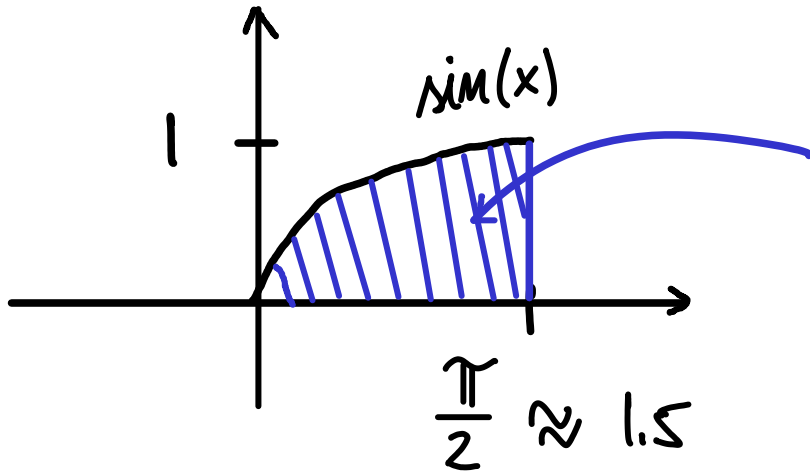
Dann:

$$\int_0^4 x \, dx = \left[\frac{1}{2} x^2 + 5 \right]_0^4 = \left(\frac{1}{2} \cdot 16 + 5 \right) - \left(\frac{1}{2} \cdot 0 + 5 \right) = \underline{\underline{8}}$$

Fazit: Der Wert des Integrals ist unabhängig von der Wahl der konkreten Stammfunktion!

Beispiel

$$\int_0^{\frac{\pi}{2}} \sin(x) dx = ?$$



$$T = ?$$

$T \approx 1$ (geschätzt!)

$$\begin{aligned} \int_0^{\frac{\pi}{2}} \sin(x) dx &= \\ &= [-\cos(x)]_0^{\frac{\pi}{2}} = \\ &= \underbrace{-\cos\left(\frac{\pi}{2}\right)}_{=0} - \underbrace{\left(-\cos(0)\right)}_{=1} = \underline{\underline{1}} \end{aligned}$$

Übung

Aufgabe Bestimmen Sie die folgenden Integrale analytisch und geometrisch:

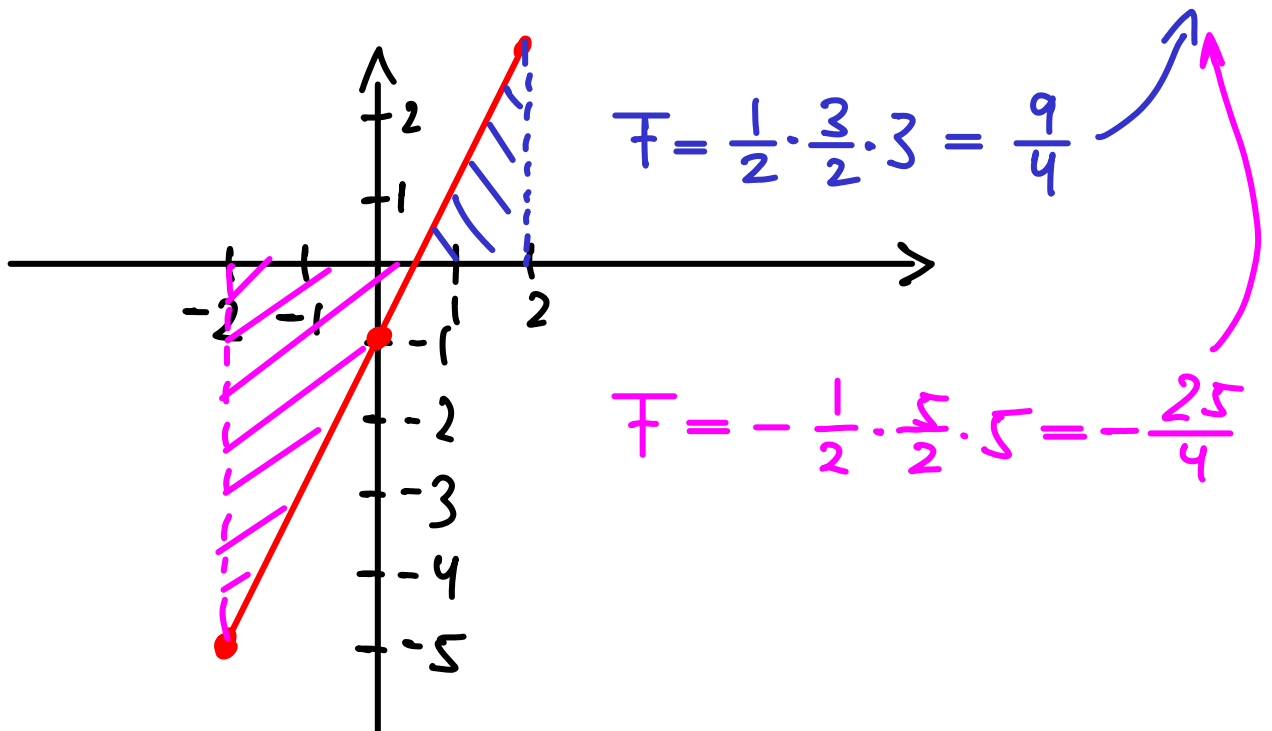
$$(a) \int_{-2}^2 (2x-1) dx = ?$$

$$\int_{-2}^2 (2x^1 - x^0) dx = \left[\frac{2}{2} x^2 - \frac{1}{1} x^1 \right]_{-2}^2$$

„Exponent um 1 erhöhen, durch neuen Exponent teilen!“

$$= (2^2 - 1 \cdot 2) - ((-2)^2 - 1 \cdot (-2)) = 2 - 6 = \underline{\underline{-4}}$$

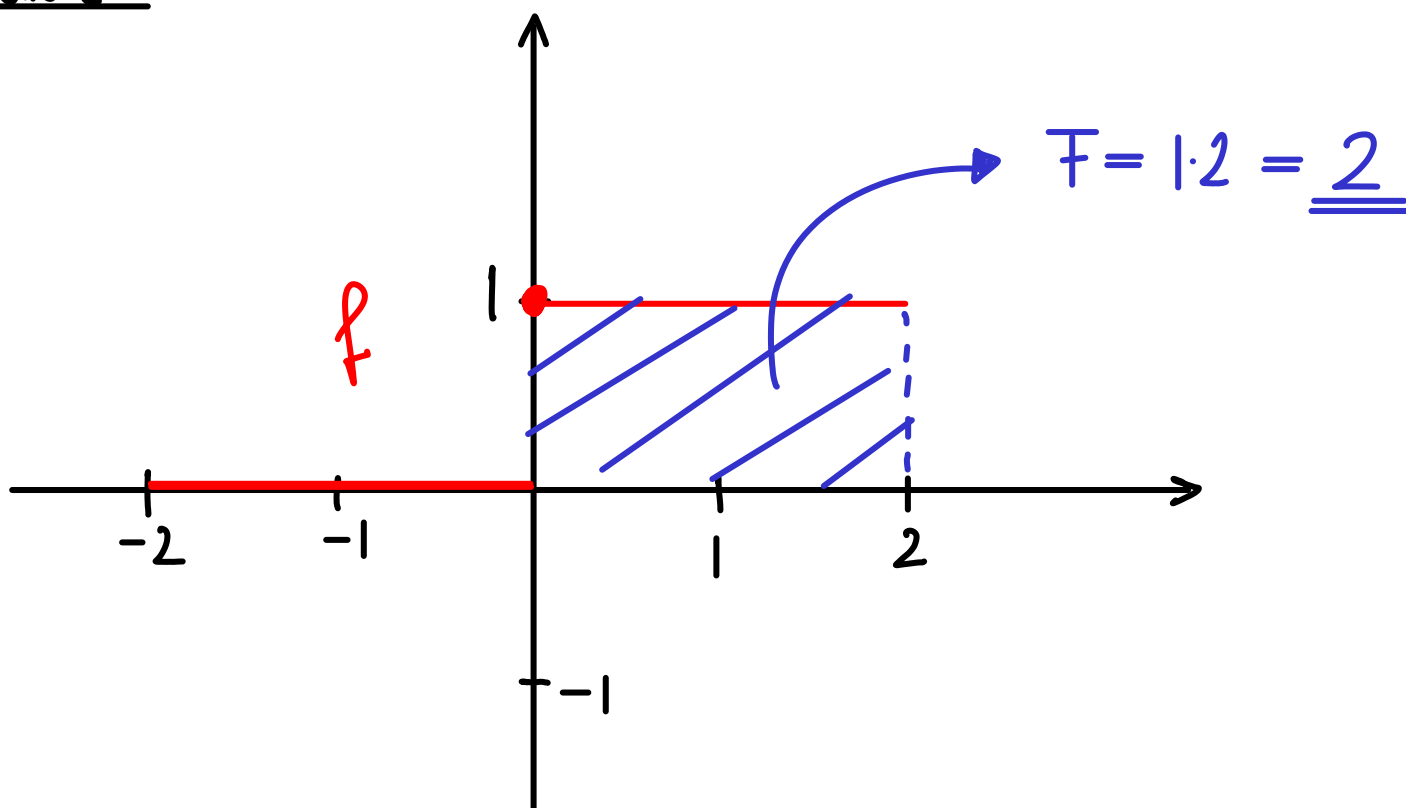
Skizze:



$$(b) \quad f(x) := \begin{cases} 0 & \text{für } x \in [-2, 0) \\ 1 & \text{für } x \in [0, 2] \end{cases}$$

$$\begin{aligned} \int_{-2}^2 f(x) dx &= \int_{-2}^0 0 dx + \int_0^2 1 dx \\ &= \underbrace{[1]_{-2}^0}_{1-1=0} + \underbrace{[x]_0^2}_{2-0=2} = \underline{\underline{2}} \end{aligned}$$

Skizze:



$$(c) \int_{-2}^2 |x+1| dx$$

$$= \int_{-2}^{-1} -(x+1) dx + \int_{-1}^2 (x+1) dx$$

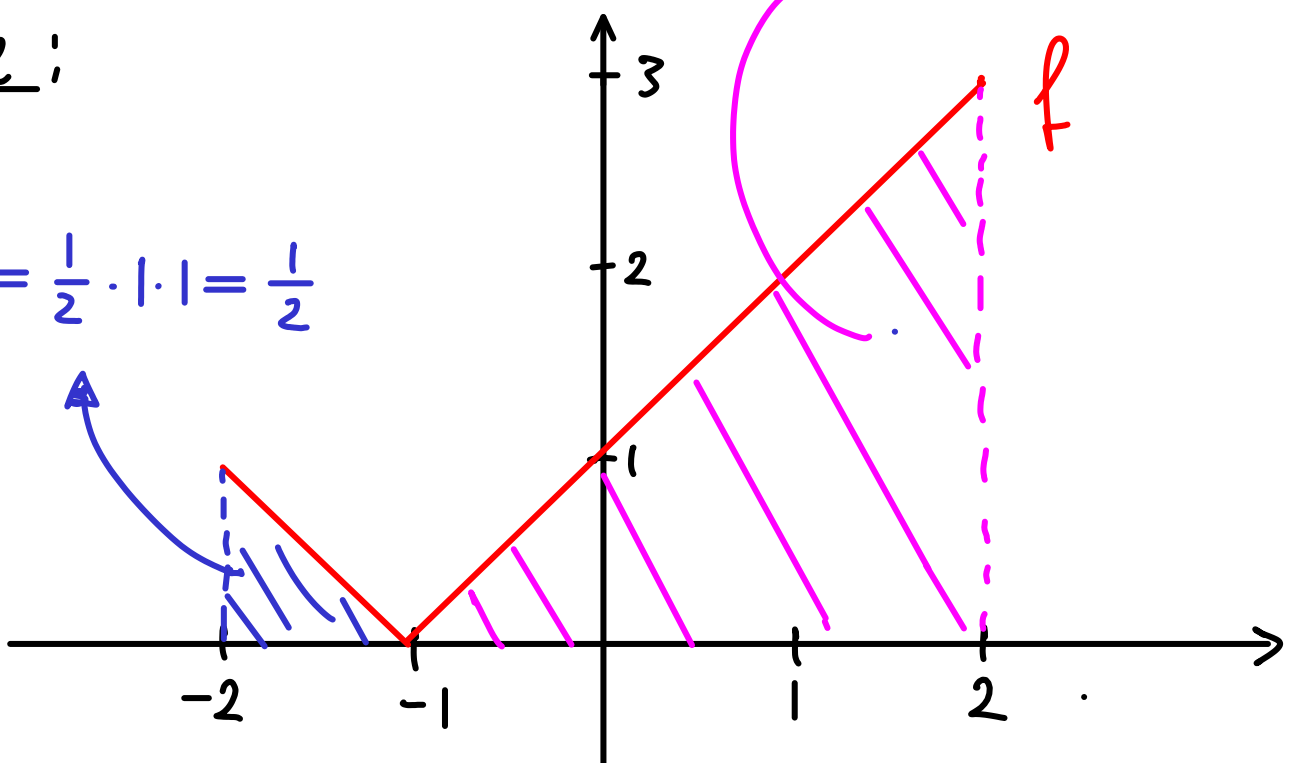
$$= \left[-\frac{1}{2}x^2 - x \right]_{-2}^{-1} + \left[\frac{1}{2}x^2 + x \right]_{-1}^2$$

$$= \left(-\frac{1}{2} + 1 \right) - (-2 + 2) + (2 + 2) - \left(\frac{1}{2} - 1 \right)$$

$$= \underline{\underline{5}}$$

Skizze:

$$F = \frac{1}{2} \cdot 1 \cdot 1 = \frac{1}{2}$$



$$(d) \int_{-2}^2 \frac{2x}{x^2+5} dx$$

$$\left(\ln(f(x)) \right)' = \frac{f'(x)}{f(x)}$$

„Rate Stammfunktion“

$$= \left[\ln(x^2+5) \right]_{-2}^2 = \underline{\underline{0}}$$

$$(e) \int_{-2}^2 e^{3x-6} dx$$

$$= \left[\frac{1}{3} e^{3x-6} \right]_{-2}^2$$

$$= \underline{\underline{\frac{1}{3} (1 - e^{-12})}}$$

Aufgabe

Es seien $g: [a, b] \rightarrow \mathbb{R}$ und $h: [c, d] \rightarrow \mathbb{R}$ differenzierbare Funktionen mit

$$g(x) \in [c, d] \quad , \quad x \in [a, b].$$

Bestimmen Sie nun jeweils eine Stammfunktion für die folgenden Funktionen:

(a) $f(x) := h'(g(x)) \cdot g'(x) ,$

(b) $f(x) := 2 g'(x) \cdot g(x) ,$

(c) $f(x) := \frac{g'(x)}{g(x)} \quad , \quad \text{falls } g(x) \neq 0 , x \in [a, b].$

(a) $F(x) = h(g(x)) ,$ „ Kettenregel “

(b) $F(x) = (g(x))^2 ,$ „ Produkt - oder Kettenregel “

(c) $F(x) = \ln(|g(x)|) .$ „ Kettenregel “

Für (c) sollte man kurz die beiden möglichen Fälle durchspielen. Da g differenzierbar und damit insbesondere stetig ist, folgt aus $g(x) \neq 0$ für alle $x \in [a, b]$ sofort $g(x) > 0$ für alle $x \in [a, b]$ oder $g(x) < 0$ für alle $x \in [a, b]$. Also:

$$\begin{aligned} \underline{g(x) > 0:} \quad f'(x) &= (\ln(|g(x)|))' = (\ln(g(x)))' \\ &= \frac{g'(x)}{g(x)} \quad \checkmark \text{ o.k.} \end{aligned}$$

$$\begin{aligned} \underline{g(x) < 0:} \quad f'(x) &= (\ln(|g(x)|))' = (\ln(-g(x)))' \\ &= \frac{-g'(x)}{-g(x)} = \frac{g'(x)}{g(x)} \quad \checkmark \text{ o.k.} \end{aligned}$$

Aufgabe

$$(a) \int_0^{2\pi} e^{\sin(x)} \cdot \cos(x) \, dx$$

$$(a) \text{ oben} = \left[e^{\sin(x)} \right]_0^{2\pi} = e^{\circ} - e^{\circ} = \underline{\underline{0}}$$

„Skizze mit wolframalpha“

$$(b) \int_0^{2\pi} \sin(x) \cdot \cos(x) \, dx$$

$$= \frac{1}{2} \int_0^{2\pi} 2 \cos(x) \sin(x) \, dx$$

$$(b) \text{ oben} = \frac{1}{2} \left[\sin^2(x) \right]_0^{2\pi} = \underline{\underline{0}}$$

„Skizze mit wolframalpha“

(c)

$$\int_{\frac{\pi}{4}}^{\frac{3\pi}{4}} \frac{\cos(x)}{\sin(x)} dx$$

(c) oben

$$= \left[\ln(\sin(x)) \right]_{\frac{\pi}{4}}^{\frac{3\pi}{4}}$$

$$= \ln\left(\frac{1}{\sqrt{2}}\right) - \ln\left(\frac{1}{\sqrt{2}}\right) = \underline{\underline{0}}$$

„Skizze mit wolframalpha“